







① いきものの ^{かず} 数を 下の
ひょうに ^か 書きましょう。

		
8	6	4

② ○を かいて、上の ひょうの
数を、グラフに あらわしましょう。

いきものしらべ


○		
○		
○	○	
○	○	
○	○	○
○	○	○
○	○	○
○	○	○
		

あらわしましょう。

②  は ^{なん}何びき

およいで いるでしょうか。

5 ひき

③  は 何びき

およいで いるでしょうか。

3 びき

④  は,  より

何びき 多いでしょうか。

しき 4-2

2 ひき

魚の ^{かず}数

