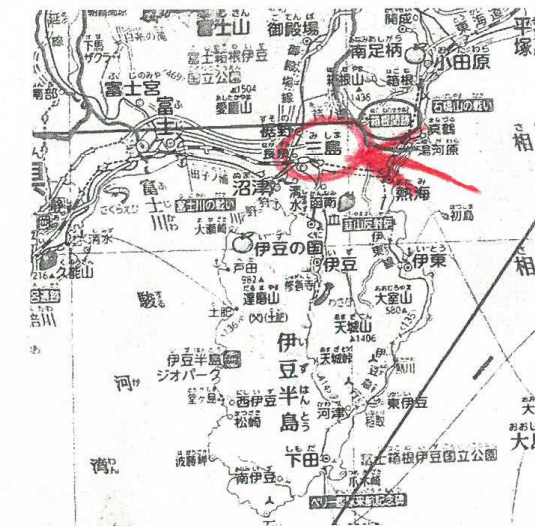


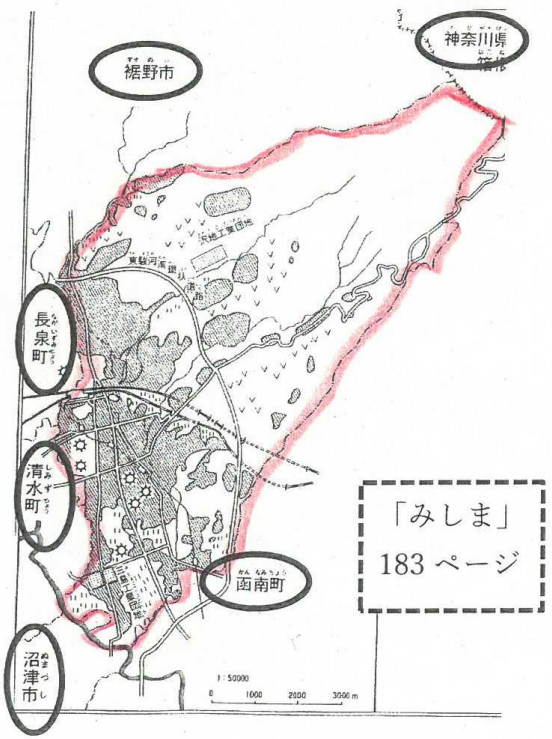
市の様子① 名前 (**答え**)

① (め) 三島市の場所をかくにんしよう。

◆三島市の場所を、地図ちようの57ページ~58ページから見つけましょう。



◆三島市を見つけたら、左の地図に赤で → を書きこみましょう。



◆三島市のまわりの線を赤でなぞりましょう。

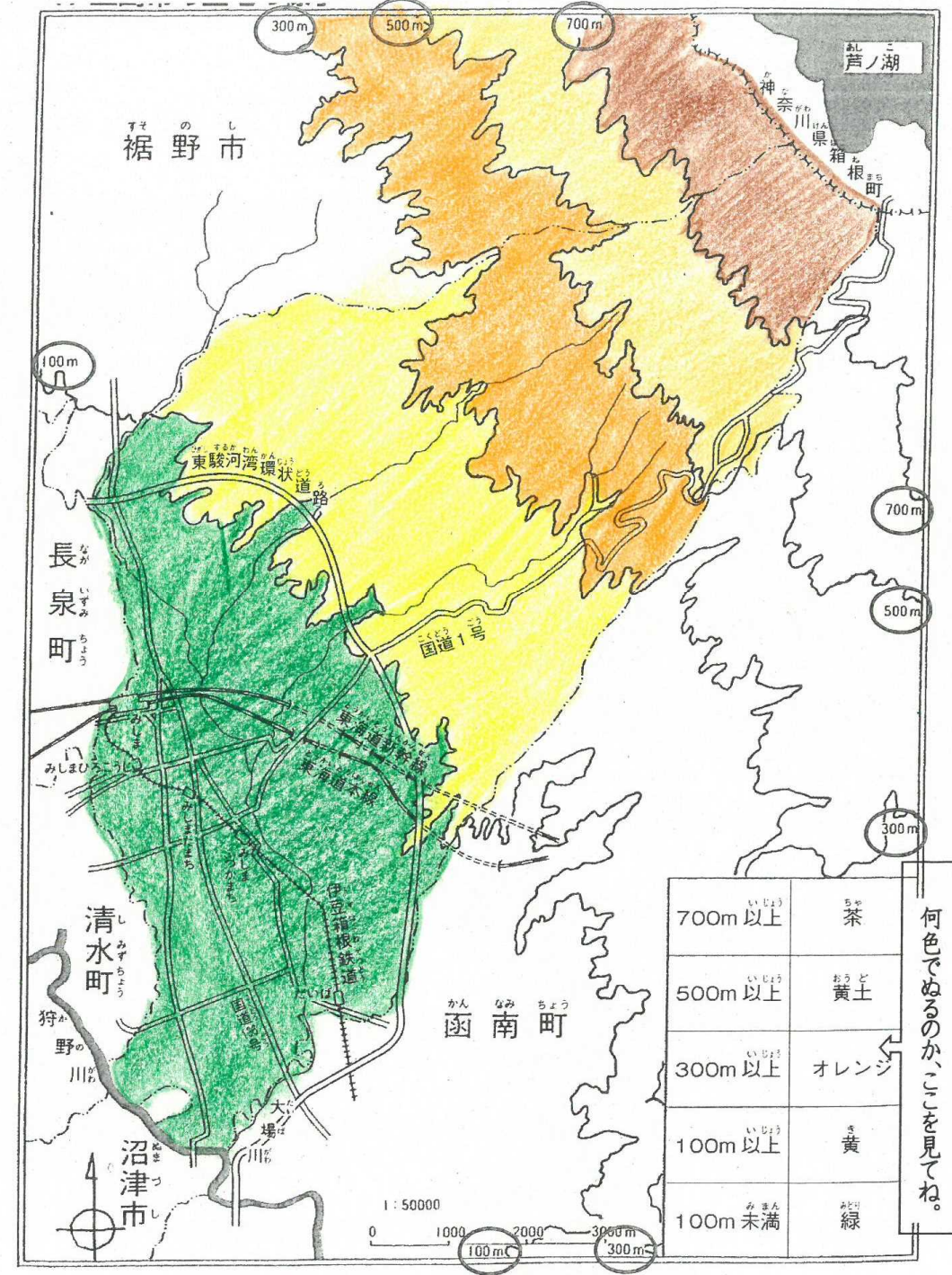
この線をなぞります。

◆三島市のまわりの市や町や県の名前を書きましょう。

かながわ	県
神奈川	県
すそ野	市
ぬまづ	市
長いずみ	町
清水	町
かん南	町

市の様子② 名前 (**答え**)

② (め) 三島市の土地の高さで色分けしましょう



ように

あとの時こくをもとめることができる。

次の時こくをもとめましょう。

- ① 午前4時10分の30分後の時こく。

答え 午前4時40分



- ② 午後3時25分の35分後の時こく。

答え 午後4時



- ③ 午後7時36分の1時間20分後の時こく。

答え 午後8時56分



前の時こくをもとめることができる。

次の時こくをもとめましょう。

- ① 午前11時45分の30分前の時こく。

午前 11時15分



- ② 午後6時30分の45分前の時こく。

午後 5時45分



- ③ 午前9時50分の1時間15分前の時こく。

午前 8時35分



合わせた時間をもとめることができる。

ゆうたさんは、日曜日の午前中に1時間10分、午後45分、

本を読みました。合わせて、何時間何分本を読みましたか。

しき $1時間10分 + 45分 = 1時間55分$

答え 1時間55分

→ どうやって計算しますか?

いかそう

次の時こくをもとめましょう。

- ① 午後8時18分の20分後の時こく。 午後8時38分

- ② 午前10時20分の50分後の時こく。 午前11時10分

- ③ 午後3時55分の1時間35分後の時こく。 午後5時30分

- ④ 午前5時42分の48分後の時こく。 午前6時30分

ゆなさんは、ゆうびん局の前を通過して、ようたさんの家に遊びに行こうと考えています。ゆなさんの家からゆうびん局まで歩いて10分かかり、ゆうびん局からようたさんの家まで15分かかります。

ようたさんの家に午後2時に着くには、ゆなさんは

何時何分に家を出ればよいですか。

やり方

$$10分 + 15分 = 25分$$

$$2時 - 25分$$

$$\begin{array}{r} \text{時} \quad \text{分} \\ 2 \quad 00 \\ - \quad 25 \\ \hline 1 \quad 35 \end{array}$$

答え 午後1時35分

けんとうさんたちの遠足は、午前中に2時間45分、午後

3時間30分かかります。合わせて何時間何分かかりますか。

$$\text{しき } 2時間45分 + 3時間30分 = 6時間15分$$

$$\begin{array}{r} 2 \quad 45 \\ + 3 \quad 30 \\ \hline 6 \quad 15 \end{array}$$

答え 6時間15分

さやかさんは、午後2時35分から午後4時20分まで

サッカーの練習をしました。何時間何分練習しましたか。

$$\text{しき } 4時20分 - 2時35分$$

$$\begin{array}{r} 4 \quad 20 \\ - 2 \quad 35 \\ \hline 1 \quad 45 \end{array}$$

$$\begin{array}{l} 20 - 35 \text{ はできないので} \\ 1 \text{時間借りてくると} \\ 20 + 60 = 80 \\ 80 - 35 = 45 \end{array}$$

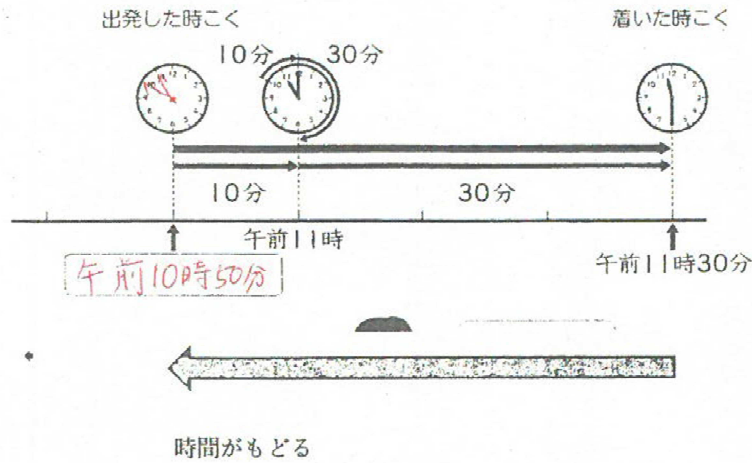
答え 1時間45分

と時間② 名前 _____

教科書 P26
~27を見て
考えよう

め・・・時間は計算できるのかな？

2 図書館を出発して40分歩いて、学校に午前11時30分に
着きました。図書館を出発した時こくは、何時何分ですか。



時計や
線を見て
考えよ
う。

★図書館を出発したのは、学校に着いた時こくより、前の時こく。

30分もどると、午前(11)時。のこりの10分もどると

答えは 午前10時50分

次の時こくをもとめましょう。

① 午前11時20分の50分前の時こく。

11時20分から20分もどると(11)時。

のこりの30分もどると、答えは 午前10時30分

② 午後2時20分の1時間20分前の時こく。


自分のわかりやすいやり
方でやろう！

答え 午後1時

うさあさ!

公園にいた時間は30分、図書館にいた時間は35分でした。

公園と図書館にいた時間は、合わせて何時間何分ですか。



$30分 + 35分 = 65分$

$65分 = 1時間 5分$

時間の計算では
60分になると、
時のたんに
1くり上がるね。



たしかめたいな

校外学習で歩いた
時間は、右のとおりです。
歩いた時間は全部で
何時間何分ですか。

学校から公園まで……30分間
公園から図書館まで……25分間
図書館から学校まで……40分間

計算するのなら、どうやりますか？ 60分をこえたら1時間だよ！

しき $30分 + 25分 + 40分 = 95分$
 $95分 = 1時間 35分$

答え 1時間35分

たしかめたいな

学校を午前8時50分に出発して、学校に午前11時30分に
帰ってきました。学校の外にいた時間を、式に書いてもとめましょう。

$11時30分 - 8時50分$

時と分をたてにそろえる P28を見ながら □に数を入れよう。

① 時と分をたてにそろえる

$$\begin{array}{r} 11時30分 \\ - 8時50分 \\ \hline \end{array}$$

②
$$\begin{array}{r} 10時30分 \\ - 8時50分 \\ \hline \end{array}$$

30-50は
できなから
60分
借りる。
60+30=90
90-50=?

③
$$\begin{array}{r} 10時30分 \\ - 8時50分 \\ \hline \end{array}$$

2時40分